

Capítulo 2

Evaluación

Examen piloto, cultura general.	1
Opción múltiple.	2
Completar.	2
Arrastrar y soltar.	3
Falso y verdadero.	3
Relacionar.	4
Preguntas y abiertas.	5
Incrustada.	5
Selección múltiple.	6
Respuestas.	7

Autor: Agustín Bautista Bautista y Héctor Guerra Crespo.
Última versión: 11/07/2019.

Opción múltiple.

¿Quién descubrió el América?

- (a) Cristóbal Colón. (b) Maximiliano Bonilla. (c) Reina Isabel. (d) Leonardo Da Vinci.

¿Cuál de estos nombres son correctas de las tres caravelas que zarpó de España al América?.

- (a) El conquistador, Niña y la Pinta.
(b) Santa lucia, el Conquistador y la Pinta.
(c) La Niña, la Pinta y la Santa María.
(d) Conquistador, la Pinta y las caravelas.

¿Cuál es el deporte más popular del mundo?

- (a) Tenis. (b) Basketball. (c) Voleibol. (d) Football.

¿En qué clase pertenece la ballena?.

- (a) Ovíparo.
(b) Anfibios.
(c) Mamífero.
(d) Vivíparos

¿Cuál es la respuesta correcta de $3+3 \times 5$?

- (a) 25. (b) 18. (c) 21. (d) 30.

¿En qué continente tiene mayor número de países?.

- (a) América.
(b) Europa.
(c) Asia.
(d) Oceanía.
(e) África.

Completar.

La ciudad más poblada del mundo es _____.

- (a) Shanghái, china.
(b) Tokio, Japón.
(b) Ciudad de México, México.
(d) Nueva York, EE UU.

El _____ es un número nulo.

- (a) Cerro. (b) Sero. (c) Cerró. (d) Cero.

El animal más rápido es el _____ que alcanza una velocidad de 115 km.

- (a) Guepardo.
(b) Ocelote.
(c) Corre camino.
(d) Tigre.

El _____ es el planeta que se encuentra mas cerca del sol.

- (a) Marte. (b) Júpiter. (c) Saturno. (d) Mercurio.

Arrastrar y soltar.

Tipos de especies de dinosaurios.

El dinosaurio tiranosaurio es una especie _____ se alimentaba de carnes y mientras el dinosaurio amargasaurio se alimentaba de plantas, forma parte de una especie _____ la otra especie de Oritomino se alimenta de plantas, insectos y huevo es una especie _____.

Respuestas: Carnívoro, omnívoro, herbívoro.

Estos siguientes hardware tiene las siguientes funciones.

El _____ sirve para almacenar archivos y documentos.

El _____ es un dispositivo de salida y entrada que muestra datos e información al usuario.

El _____ provee al usuario que le permite ejecutar las funciones deseada de una computadora.

El _____ permite introducir datos, información, texto, dar instrucciones y cálculos.

Respuestas: disco rígido, mouse, monitor, teclado.

Tipos de números.

El número 8 es un número _____ y el número 9 es un número _____ y el número 47 es un número _____ el número 33 es _____.

(a) Impar.

(b) Compuesto.

(c) Primo.

(d) Par.

Jerarquía de los templos de la iglesia católica.

_____ catedral

_____ capillas

_____ basílica

_____ parroquias.

(a) 1.

(b) 2.

(c) 3.

(d) 4.

Falso y verdadero.

La televisión a color fue inventada por un ingeniero estadounidense.

() Falso.

() verdadero.

La superficie de la tierra está cubierta con un 70% de agua y los océanos contiene alrededor de 96.5 de agua en todo el planeta.

() Falso.

() Verdadero.

México ocupa el país de tercer mundo en el desarrollo de la economía.

() Falso.

() Verdadero.

El tamaño del correcamino oscila entre los 45 y los 56 centímetros.

- () Falso.
() Verdadero.

Relacionar.

Generación de la computadora en línea de tiempo.

Primera generación.	1964 a 1971.
Segunda generación.	1951 a 1958.
Tercera generación.	1971 a 1981.
Cuarta generación.	1959 a 1964.
Quinta generación.	1982 a 1989.

Objetos en el espacio exterior.

Es objeto rocoso y metálicos y con un tamaño mucho más pequeñas en comparación con los planetas.	Cometa.
Es un fragmento de roca o metálico que procede del espacio exterior que entra en la atmosfera a gran velocidad y cae sobre la tierra.	Planetas.
Es un cuerpo celeste formado por hielo, rocas y polvo que giran alrededor del sol.	Meteorito.
Es un cuerpo celeste que gira alrededor de una estrella que no emite su propia luz, están formados por diferentes tipos de materias algunos son rocoso y metálica otros son gaseoso.	Asteroide.

La función de base de datos.

Función BDCONTARA.	Calcula la varianza a partir de la población total de entradas seleccionadas de la base de datos.
Función BDVARP.	Cuenta el número de celdas no vacías en una base de datos.
Función BDCONTAR.	Devuelve el valor máximo de las entradas seleccionadas de la base de datos.
Función BDMAX.	Cuenta el número de celdas que contienen números en una base de datos.

Relacione los siguientes textos.

Referente.	Representación mental a partir del significante.
Significante.	Lo que realmente percibimos de algo.
Significado.	El objeto al que nos referimos, tanto sea real o imaginario.

Preguntas abiertas.

¿Cuál es el valor de π ? _____

¿En qué continente es el origen del koala? _____

¿Cuál es el quinto elemento químico de la tabla periódica? _____

¿Cuál es la fórmula de segunda ley de Newton? _____

Incrustada.**selecciona los conectores del texto de forma correcta.**

El informe compacto es (la/ de/ los) solución más rápida para obtener una visión (el/ la/ de) la situación actual de (y/ la/ los) compañía, te ofrece información resumida de (de/ los/ las) principales indicadores básicos de riesgo, comerciales (los/ y/ de) financieros.

Selecciona cual es la palabra correcta.

El (buzón/ buzón/ busón) es la apertura a las que se echan las cartas y papeles para el correo.

Selecciona la palabra correcta y agudas (silabas tónicas).

(japon/ Japón/ jápon) no tiene origen uniforme, si no es el resultado de una (diferentes/ mezcla/ varias) racial y una síntesis de elementos culturales.

La velocidad de la luz es de (300,000/ 235,000/ 300,900) kilómetros por segundos.

Selección múltiple.

Selecciona cuál de estos dispositivos de almacenamiento almacena los datos por medio magnética.

- Disco duro. Tarjeta de memoria. Disquetes. CD.

Selecciona estos nombres de los océanos que forma parte del continente americano.

- Océano Pacífico.
 Océano Índico.
 Océano Ártico.
 Océano Antártico.
 Océano Atlántico.

Cuáles son de estos formatos son extensión de fotos ya sea de raster o vectorial.

- jpg. avi. png. mp4. avm2.

Cuáles son de estas operaciones da un resultado de 25.

- $100/4$. $50/3$. $24+2$. $2+2-4+5 \times 5$. $2-3+25$.

Respuestas.

Opción múltiple.

¿Quién descubrió el América?

- (a) Cristóbal Colón. (b) Maximiliano Bonilla. (c) Reina Isabel. (d) Leonardo Da Vinci.

¿Cuál de estos nombres son correctas de las tres caravelas que zarpó de España al América?.

- (a) El conquistador, Niña y la Pinta.
 (b) Santa lucia, el Conquistador y la Pinta.
 (c) La Niña, la Pinta y la Santa María.
 (d) Conquistador, la Pinta y las caravelas.

¿Cuál es el deporte más popular del mundo?

- (a) Tenis. (b) Basketball. (c) Voleibol. (d) Football.

¿En qué clase pertenece la ballena?.

- (a) Ovíparo.
 (b) Anfibios.
 (c) Mamífero.
 (d) Vivíparos

¿Cuál es la respuesta correcta de $3+3 \times 5$?

- (a) 25. (b) 18. (c) 21. (d) 30.

¿En qué continente tiene mayor número de países?.

- (a) América.
 (b) Europa.
 (c) Asia.
 (d) Oceanía.
 (e) África.

Completar.

La ciudad más poblada del mundo es b .

- (a) Shanghái, china.
 (b) Tokio, Japón.
 (b) Ciudad de México, México.
 (d) Nueva York, EE UU.

El d es un número nulo.

- (a) Cerro. (b) Sero. (c) Cerró. (d) Cero.

El animal más rápido es el a que alcanza una velocidad de 115 km.

- (a) Guepardo.
 (b) Ocelote.
 (c) Corre camino.
 (d) Tigre.

El d es el planeta que se encuentra mas cerca del sol.

- (a) Marte. (b) Júpiter. (c) Saturno. (d) Mercurio.

Arrastrar y soltar.

Tipos de especies de dinosaurios.

El dinosaurio tiranosaurio es una especie carnívoro se alimentaba de carnes y mientras el dinosaurio amargasaurio se alimentaba de plantas, forma parte de una especie herbíboro la otra especie de Oritomino se alimenta de plantas, insectos y huevo es una especie omnívoro.

Respuestas: Carnívoro, omnívoro, herbívoro.

Estos siguientes hardware tiene las siguientes funciones.

El disco rígido sirve para almacenar archivos y documentos.

El monitor es un dispositivo de salida y entrada que muestra datos e información al usuario.

El mouse provee al usuario que le permite ejecutar las funciones deseada de una computadora.

El teclado permite introducir datos, información, texto, dar instrucciones y cálculos.

Respuestas: disco rígido, mouse, monitor, teclado.

Tipos de números.

El número 8 es un número d y el número 9 es un número a y el número 47 es un número c el número 33 es b.

(a) Impar.

(b) Compuesto.

(c) Primo.

(d) Par.

Jerarquía de los templos de la iglesia católica.

b catedral
(a) 1.

d capillas
(b) 2.

a basílica
(c) 3.

c parroquias.
(d) 4.

Falso y verdadero.

La televisión a color fue inventada por un ingeniero estadounidense.

() Falso.

() verdadero.

La superficie de la tierra está cubierta con un 70% de agua y los océanos contiene alrededor de 96.5 de agua en todo el planeta.

() Falso.

() Verdadero.

México ocupa el país de tercer mundo en el desarrollo de la economía.

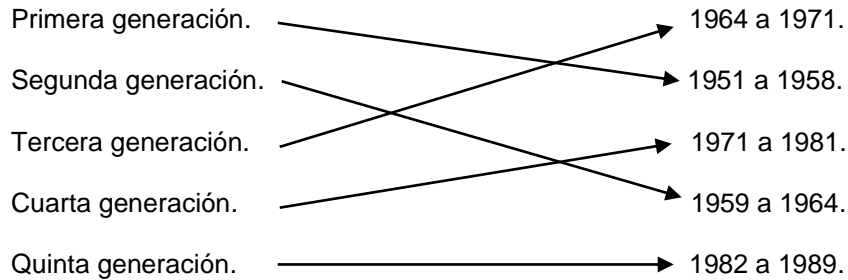
() Falso.

() Verdadero.

El tamaño del correcamino oscila entre los 45 y los 56 centímetros.

() Falso.

() Verdadero.

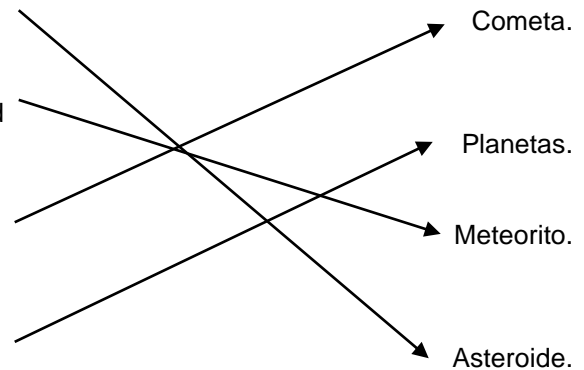
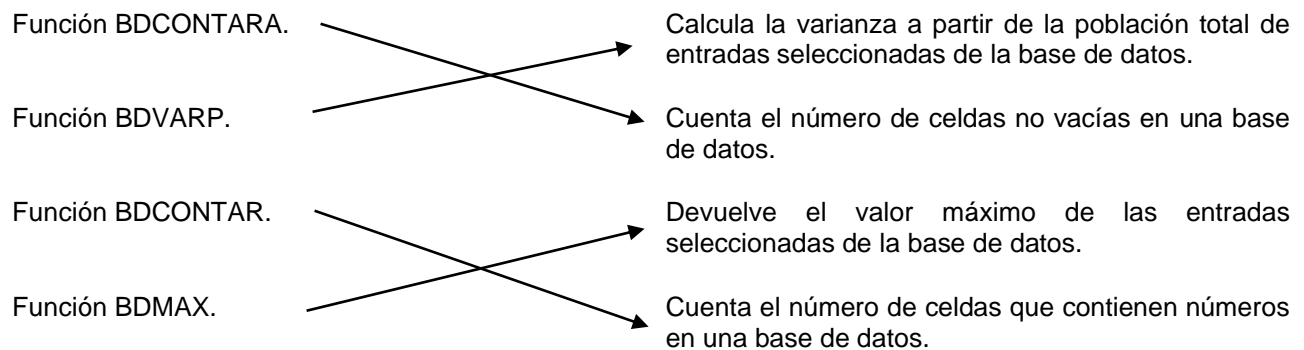
Relacionar.**Generación de la computadora en línea de tiempo.****Objetos en el espacio exterior.**

Es objeto rocoso y metálicos y con un tamaño mucho más pequeñas en comparación con los planetas.

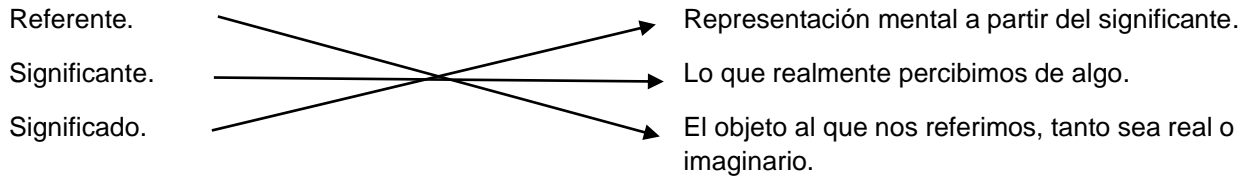
Es un fragmento de roca o metálico que procede del espacio exterior que entra en la atmosfera a gran velocidad y cae sobre la tierra.

Es un cuerpo celeste formado por hielo, rocas y polvo que giran alrededor del sol.

Es un cuerpo celeste que gira alrededor de una estrella que no emite su propia luz, están formados por diferentes tipos de materias algunos son rocoso y metálica otros son gaseoso.

**La función de base de datos.**

Relacione los siguientes textos.



Preguntas abiertas.

¿Cuál es el valor de π ? 3.14159

¿En qué continente es el origen del koala? Oceanía

¿Cuál es el quinto elemento químico de la tabla periódica? Boro

¿Cuál es la fórmula de segunda ley de Newton? $a = fm$

Incrustada.

Selecciona los conectores del texto de forma correcta.

El informe compacto es (la/ de/ los) solución más rápida para obtener una visión (el/ la/ de) la situación actual de (y/ la/ los) compañía, te ofrece información resumida de (de/ los/ las) principales indicadores básicos de riesgo, comerciales (los/ y/ de) financieros.

Selecciona cual es la palabra correcta.

El (buzón/ buzón/ busón) es la apertura a las que se echan las cartas y papeles para el correo.

Selecciona la palabra correcta y agudas (silabas tónicas).

(japón/ Japón/ jápon) no tiene origen uniforme, si no es el resultado de una (diferentes/ mezcla/ varias) racial y una síntesis de elementos culturales.

La velocidad de la luz es de (300,000/ 235,000/ 300,900) kilómetros por segundos.

Selección múltiple.

Selecciona cuál de estos dispositivos de almacenamiento almacena los datos por medio magnética.

- Disco duro. Tarjeta de memoria. Disquetes. CD.

Selecciona estos nombres de los océanos que forma parte del continente americano.

- Océano Pacífico.
 Océano Índico.
 Océano Ártico.
 Océano Antártico.
 Océano Atlántico.

Cuáles son de estos formatos son extensión de fotos ya sea de raster o vectorial.

- jpg. avi. png. mp4. avm2.

Cuáles son de estas operaciones da un resultado de 25.

- $100/4$. $50/3$. $24+2$. $2+2-4+5 \times 5$. $2-3+25$.